

ТИТУЛЬНЫЙ ЛИСТ

Красноярский край

Всероссийская олимпиада школьников 2024-2025 учебный год

Школьный этап.

Предмет ГЕОГРАФИЯ

Шифр участника 25007

Фамилия Мельников

Имя Максим

Отчество Александрович

Класс 5В

Сокращенное наименование образовательной организации (школы)

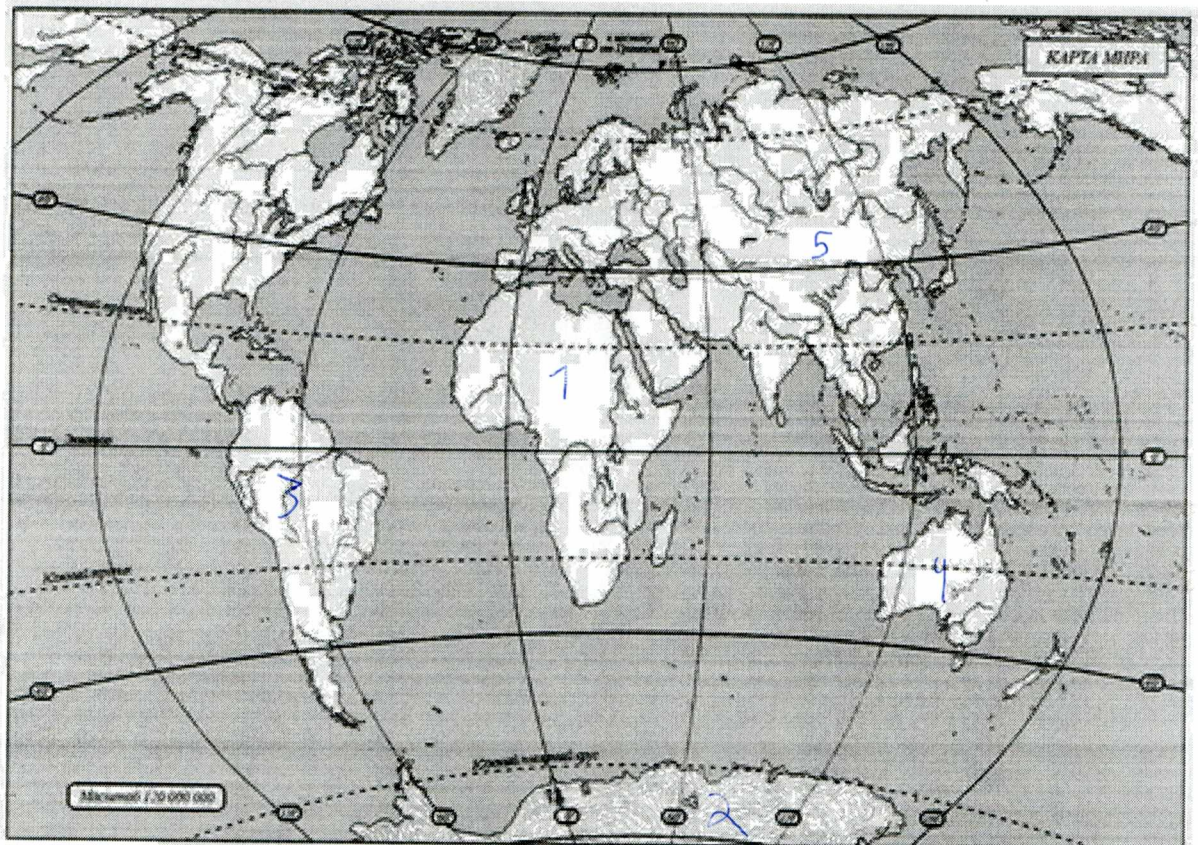
МБОУ СЗМ 733

№ задания	Максимальные баллы за каждое задание	Баллы, полученные участником
Тестовый тур	15	10
Практический тур	5	5
Итого	20	15

Всероссийская олимпиада школьников 2024-2025 учебный год
Школьный этап. География, 5 класс,
Время выполнения 45 мин. Максимальное кол-во баллов – 20
БЛАНК ОТВЕТОВ

№ задания	Ответ	Кол-во баллов	№ задания	Ответ	Кол-во баллов
1	A	1	9	БА	0
2	нигде	1	10	РБ	1
3	Б	1	11	ВБ	0
4	A	1	12	Г	0
5	Г	1	13	A	1
6	7 км	1	14	B	1
7	B	1	15	A	0
8	Б	0			
Всего баллов	10				


Практический тур



Всероссийская олимпиада школьников 2024-2025 учебный год
Школьный этап. География, 5 класс, задания
Время выполнения 45 мин. Максимальное кол-во баллов – 20
Все ответы занесите в БЛАНК ОТВЕТОВ

Теоретический тур

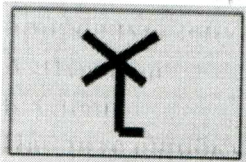
- 1. Каким прибором измеряют температуру воздуха?**
А. Термометр
Б. Барометр
В. Сантиметр
Г. Анемометр
- 2. Определите термин по понятию**
Сочетание температуры воздуха, облачности, осадков и ветра в определённое время в конкретной точке земного шара – это
- 3. Какая самая большая планета в Солнечной системе?**
А. Марс
Б. Юпитер
В. Плутон
Г. Земля
- 4. От вращения Земли вокруг своей оси зависит:**
А. Смена дня и ночи
Б. Смена времен года
В. Смена сезонов года
Г. Смена часовых поясов
- 5. Выбери неправильный ответ. Чем план местности отличается от рисунка?**
А. План местности изображен сверху
Б. На плане местности используют условные обозначения
В. План местности ориентирован по сторонам света
Г. План местности не показывает растительность
- 6. Масштаб карты показывает какое расстояние на местности соответствует отрезку в _____ на карте. Определите какое слово пропущено.**
- 7. За чем наблюдают с помощью данных приборов?**



А. За морями
Б. За волнами

В. За погодой
Г. За природой

8. Какой объект обозначается данным условным знаком:



- А. Ветряная мельница
Б. Зонт
В. Церковь
Г. Флюгер
9. Какие горы отделяют европейскую часть России от ее азиатской части?
А. Кавказ
Б. Урал
В. Гималаи
Г. Саяны
10. Красноярский край один из крупнейших регионов России. Какое место он занимает по площади среди субъектов нашей страны?
А. 1
Б. 2
В. 3
Г. 4
11. На какой реке расположен город Красноярск?
А. Волга
Б. Нева
В. Лена
Г. Енисей
12. Выберите из перечисленных вариантов самую большую по площади природную зону России:
А. Пустыни
Б. Степи
В. Тайга
Г. Тундра
13. Найдите ошибку в перечислении животных Арктики
А. Лемминг, бурый медведь, тюлень
Б. Морж, белый медведь, песец
В. Белый медведь, морж, тюлень
Г. Белый медведь, песец, морж
14. Как называется линия, которая делит планету на северное и южное полушарие
А. Полюс
Б. Меридиан
В. Экватор
Г. Долгота
15. Выберите дату летнего солнцестояния
А. 20 марта
Б. 22 декабря
В. 21 июня
Г. 23 июля

Практический тур

Задание 1.

На контурной карте мира (в бланке ответов) подпиши цифры, которые обозначают следующие объекты:

1. Самый жаркий материк
2. Самый холодный материк
3. Самый влажный материк
4. Материк, на котором распространены коала, сумчатый волк и кенгуру
5. Материк, на котором расположены самые высокие горы

Максимальное количество баллов за задание – 5 баллов

ТИТУЛЬНЫЙ ЛИСТ
Красноярский край
Всероссийская олимпиада школьников 2024-2025 учебный год
Школьный этап.

Предмет ГЕОГРАФИЯ

Шифр участника Г6005

Фамилия Тешер

Имя Михаил

Отчество Дмитриевич

Класс _____

Сокращенное наименование образовательной организации (школы)

№ задания	Максимальные баллы за каждое задание	Баллы, полученные участником
Тестовый тур	15	9
Практический тур		
1	10	5
2	6	3
Итого	31	16

Всероссийская олимпиада школьников 2024-2025 учебный год
Школьный этап. География, 6 классы
Время выполнения 45 мин. Максимальное количество баллов – 31

БЛАНК ОТВЕТОВ

Тестовый тур

№ задания	Ответ	Кол-во баллов	№ задания	Ответ	Кол-во баллов
1	Б	1	9	В	0
2	А	0	10	В	0
3	Г	1	11	Северный - ледовитый	1
4	А	1	12	Г	1
5	карта	0	13	Б	1
6	В	1	14	Б	0
7	Б	0	15	Б	1
8	А	1			
Всего баллов					9

Практический тур

Задание 1. Максимальное количество баллов – 10.

1) Подпишите условные обозначения плана местности, обозначенные цифрами

Цифра	Название
1	Автомобильный мост 1
2	Железная дорога 0
3	лес 1
4	Мельница 1
5	Река 0
6	лес 0

2) Что производит завод, изображенный на плане? сахар 1

3) Какой тип дороги соединяет железнодорожную станцию с домиком лесника?

автомобильная дорога 1

4) Какой тип моста соединяет автомобильную дорогу?

Автомобильный мост 0

Задание 2. Максимальное количество баллов – 6 баллов.

1. Самый пустынный материк (без учета снежных пустынь Антарктиды).

2. Материк с самой большой численностью населения.

3. Материк, не имеющий коренного населения.


4. Материк – колыбель человечества.

5. Материк, где расположен самый высокий водопад в мире.

6. Материк, где расположен самый большой в мире речной каньон.

№	Материк	
1	Африка	0
2	Евразия	1
3	Северная Америка	0
4	Евразия	0
5	Северная Южная Америка	1
6	Северная Америка	1

3



ТИТУЛЬНЫЙ ЛИСТ

Красноярский край

Всероссийская олимпиада школьников 2024-2025 учебный год

Школьный этап.

Предмет ГЕОГРАФИЯ

Шифр участника 17001

Фамилия Жислицын

Имя Игорь

Отчество Евгеньевич

Класс 7, А

Сокращенное наименование образовательной организации (школы)

МБОУ СШ №33

№ задания	Максимальные баллы за каждое задание	Баллы, полученные участником
Тестовый тур	18	11
Практический тур	20	17
Итого	38	28

Всероссийская олимпиада школьников 2024-2025 учебный год
Школьный этап. География, 7 класс
Время выполнения 60 мин. Максимальное кол-во баллов – 38
БЛАНК ОТВЕТОВ

Тестовый тур

№ задания	Ответ	Кол-во баллов	№ задания	Ответ	Кол-во баллов
1	В	1	10	В	0
2	А	1	11	ВБГА	1
3	БГВА	1	12	Б	1
4	В	0	13	7.27200000	0
5	В	1	14	А	0
6	ГВАБ	1	15	А Г	1
7	Г	0	16	А	1
8	1)Б; 2)В; 3)А; 4)Г	1	17	Г	0
9	Б	0	18	А	1
Всего баллов					11

Практический тур

Задание № 1.





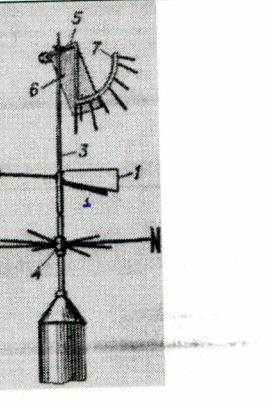

Матрица ответов



1	2	3	4	5	6	7	8	9	10
З	В	А	К	Г	Е	Д	Ж	И	Б

Задание № 2.

Вставьте недостающую информацию о географических приборах в соответствующую колонку. Максимальное количество баллов, которое можно набрать – 10.

Прибор	Название	Для чего служит?

1.		<p><i>Барометр</i></p>	<p>Для измерения давления</p> <p>1</p>
2.		<p>Курвиметр</p>	<p>0</p>
3.			<p>Прибор для наглядной демонстрации годового движения Земли вокруг Солнца и суточного вращения Земли вокруг своей оси.</p> <p>0</p>
4.		<p>Гигрометр психрометрический</p>	<p>0</p>
5.		<p><i>Анемометр</i> <i>Анемометр</i></p>	<p>Прибор для измерения направления ветра.</p> <p>1</p>
6.		<p>Осадкомер</p>	<p>Прибор для измерения количества выпавших осадков.</p> <p>1</p>

<p>7.</p> 		<p>Прибор для измерения скорости ветра.</p> <p>0</p>
<p>8.</p> 	<p>Сейсмограф</p>	<p>0</p>
<p>9.</p> 	<p>Компас</p>	<p>Прибор, предназначенный для определения сторон горизонта и состоящий из намагниченной стрелки, всегда показывающей на север.</p> <p>1</p>
<p>10.</p> 	<p>Лазерный дальномер</p>	<p>Прибор для измерения территории,</p>

ТИТУЛЬНЫЙ ЛИСТ

Красноярский край

Всероссийская олимпиада школьников 2024-2025 учебный год

Школьный этап.

Предмет ГЕОГРАФИЯ

Шифр участника Г8006

Фамилия Сидорова

Имя Варвара

Отчество Сергеевна

Класс 8B

Сокращенное наименование образовательной организации (школы)

МБОУ СШ № 133

№ задания	Максимальные баллы за каждое задание	Баллы, полученные участником
Тестовый тур	18	9
Практический тур		
1	10	7
2	10	5
3	10	1
Итого	48	22

Всероссийская олимпиада школьников 2024-2025 учебный год
Школьный этап. География, 8 класс
Время выполнения 60 мин. Максимальное кол-во баллов – 48
БЛАНК ОТВЕТОВ

Тестовый тур

№ задания	Ответ	Кол-во баллов	№ задания	Ответ	Кол-во баллов
1	Б, Г	1	10	А	1
2	Г	0	11	Ладожское	1
3	Г, Д	1	12	Б	0
4	Г	0	13	Г	1
5	Атлантический	1	14	А	1
6	В	0	15	В, Д	0
7	В	1	16	Г	1
8	А3, Б3, В1, Г2, Д2, Е2	0	17	Б	0
9	А1, Б3, В4, Г2	0	18	Г	0
Всего					9

Практический тур

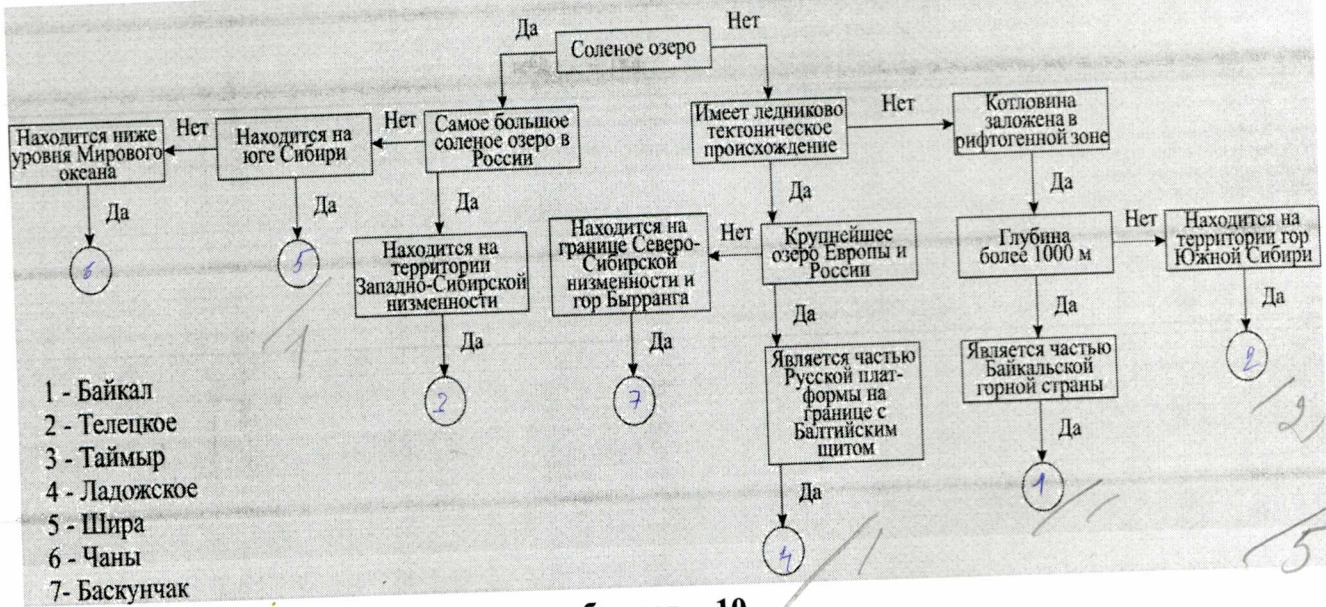
Задание 1. Максимальное количество баллов -10

t °C января	t °C июля	Годовая амплитуда температур	Количество осадков за год	Месяц с наибольшим количеством осадков	Определите минимальное количество осадков за год	Единица измерения количества осадков
-22	+15	38°	500	Июль	10	мм/сут

Задание 2.


Впишите в кружки цифры, соответствующие названиям озёр.

Максимальное количество баллов – 10



Задание 3. Максимальное количество баллов – 10

Тип рельефа	Рельефообразующие процессы		Территория России с преобладающим типом рельефа
	Номер описания	Название процесса	
Эоловый рельеф	4 0,5	термоэрозия	дольменная часть территории России
Флювиальный рельеф	3 -	абразия	Восточный Саян
Мерзлотный рельеф	2 -	эндрарация	Сибирская подмерзшая котловинная моря
Прибрежный рельеф	1 0,5	волновая эрозия	подмерзшее Балтийское моря
Ледниковый рельеф	5	деформация	



ТИТУЛЬНЫЙ ЛИСТ

Красноярский край

Всероссийская олимпиада школьников 2024-2025 учебный год

Школьный этап.

Предмет ГЕОГРАФИЯ

Шифр участника 79001

Фамилия Жуковский

Имя Евг.

Отчество Александрович

Класс 9а

Сокращенное наименование образовательной организации (школы)

МБОУ СОШ №133

№ задания	Максимальные баллы за каждое задание	Баллы, полученные участником
Тестовый тур	20	12
Практический тур		
1	6	2
2	8	0
3	10	0
4	16	1,5
Итого	60	15,5

Всероссийская олимпиада школьников 2024-25 учебный год
Школьный этап. География, 9 класс,
Время выполнения 90 мин. Максимальное кол-во баллов – 60

БЛАНК ОТВЕТОВ

Тестовый тур

№ задания	Ответ	Кол-во баллов	№ задания	Ответ	Кол-во баллов
1	Б	1	11	Б, Д	1
2	А	0	12	Б	0
3	Д	1	13	А	0
4	Б	1	14	А	1
5	А	0	15	Б	1
6	Б	1	16	А	0
7	Д	1	17	Б	1
8	А-5; Б-1; В-1; Г-1; Д-1; Е-1; Ж-1; З-1; И-1; К-1; Л-1; М-1; Н-1; О-1; П-1; Р-1; С-1; Т-1; У-1; Ф-1; Х-1; Ц-1; Ч-1; Ш-1; Щ-1; Ъ-1; Ы-1; Э-1; Ю-1; Я-1	0	18	Б	1
9	Б	0	19	Б	1
10	Б	0	20	Д	1
ИТОГО			12		

Практический тур

Задание 1.

Ответы:

1)

2)

3)

Максимальное число баллов за задание - 6

Задание 2.

Ответы:

1)

2)

3)

3 -

7 -

8 -

14 -

Максимальное число баллов за задание - 8

Задание 3.

За каждый правильный ответ по 2 балла

1.	20, 1300, 7939
----	----------------

2.	7300
3.	4939
4.	
5.	2


Максимальное число баллов за задание – 10

Задание 4.

№	На каком материке обитают эти животные (0,5 балла)	Какое место занимает этот материк по площади среди материков (0,5 балла)	В каком полушарии находится этот материк (по 0,5 за каждое)	В каких климатических поясах материк расположен (по 0,5 за каждый правильный ответ).	Всего баллов
1	Северная Америка 0,5	2	в северном		0,5
2	Юж. Америка. 0,5	4 0,5	в южном		1
3	Африка.	2	в южном в северном		0

Максимальное число баллов за задание – 16

1,5



ТИТУЛЬНЫЙ ЛИСТ
Красноярский край
Всероссийская олимпиада школьников 2024-2025 учебный год
Школьный этап.

Предмет География

Шифр участника Г10004

Фамилия Карпов

Имя Андрей

Отчество Викторович

Класс 10А

Сокращенное наименование образовательной организации (школы)

МБОУ СШ №133

№ задания	Максимальные баллы за каждое задание	Баллы, полученные участником
Тестовый тур	20	12
Практический тур		
1	10	8
2	10	8
3	10	5
4	10	4
Итого	60	39

Всероссийская олимпиада школьников 2024-2025 учебный год
Школьный этап. География, 10-11 класс, задания
Время выполнения 90 мин. Максимальное кол-во баллов – 60

Бланк ответов
Тестовый тур

Матрица ответов

№ задания	Ответ	Кол-во баллов	№ задания	Ответ	Кол-во баллов
1	Б	0	11	Г	0
2	В	1	12	Исландия	1
3	А, Г, Б, В	1	13	В	1
4	А-4, В-3, А-1, В-7, Г-6	1	14	А-2, Б-6	1
5	Г	1	15	А, В	1
6	Енисей	1	16	Эльбрус	1
7	В-1, Г-4, А-5, Б-3	0	17	Норильск	0
8		0	18		0
9	В	0	19	Таега	1
10	Клюжевская сопка	1	20	531425	0
	Всего				

Практический тур

Задание 1.

Определите туристический объект, его название и страну, в которой он находится. Запишите название туристического объекта и страну его нахождения.

Максимальное количество баллов – 10 баллов.

Туристический объект	Название туристического объекта	Страна нахождения туристического объекта	Количество баллов
1.	Мона	Италия	
2	Храм Василия Блаженного	Москва	
3	Гора "Фудзудзи"	Япония	
4	Великая Китайская стена	Китай	
5			

Задание 2. Определите географический район по его характеристике.

Максимальное количество баллов – 10.

№	Вопрос	Ответы	Кол-во баллов
1.	Назовите географический район	Европейский юг	2
2.	Какие два края входят в состав района?	Ставропольский край, Краснодарский край	2
3.	Назовите город федерального значения	Севастополь	2
4.	Назовите отрасли специализации района	Обработка и добыча металлов	0
5.	Назовите крупные города района	Ростов на дону, Краснодар, Севастополь, Макажкела	2

8

Задание 3.

Рассчитайте ресурсообеспеченность стран. Используя данные из приведённой ниже таблицы, сравните ресурсообеспеченность стран пресной водой. Расположите страны в порядке уменьшения в них показателя ресурсообеспеченности пресной водой на душу населения, начиная со страны с наибольшим показателем.

Максимальное количество баллов – 10 баллов.

Расположите страны в порядке уменьшения в них показателя ресурсообеспеченности пресной водой на душу населения, начиная со страны с наибольшим показателем.

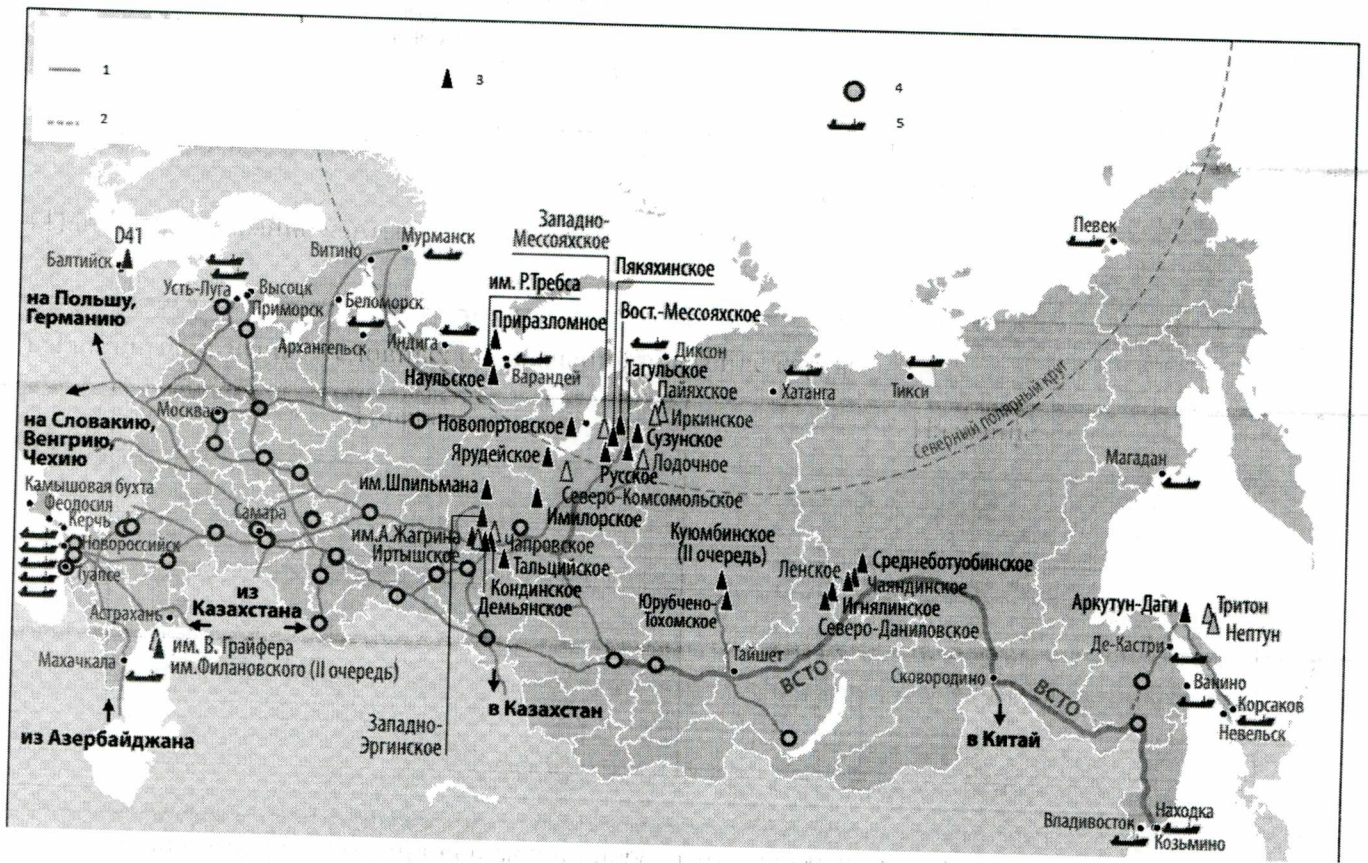
№	Страна	Ресурсообеспеченность
1.	Канада	4480
2.	Венесуэла	2357
3.	Россия	2028
4.	Индия	91,5
5.	Мьянма	20

5

Задание 4.

Перед вами карта. Ответьте на вопросы, используя данную карту.

Максимальное количество баллов – 10 баллов.



1) Напишите название карты

Экономическая

2) Напишите название условных обозначений в легенде карты

Цифра	Название
1	дорога
2	Северный круг
3	Кефты
4	Города
5	Порты

3) Какими видами транспортировки можно перевозить данный продукт

Танкерами, поездами и грузовиками.

4) Назовите географический район – лидер по добыче данного ресурса

западная сибирь